



JMÉNO TÝMU: \_\_\_\_\_

## JARNÍ TOULKY PRAHOU 2015

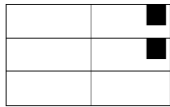


Č.	OBLAST	STANOVIŠTĚ	DOHLEDÁVKA / ÚKOL	BODY	ODPOVĚĎ
1	Libeň	zed' Bohumila Hrabala	V místě autobusového nádraží Palmovka kdysi stával domek Bohumila Hrabala, na jeho počest je část zdi nádraží ilustrována. Za hlídaným parkovištěm v ulici Na Hrázi je na zdi nakreslená polička s knihami. Čí kniha se nachází mezi Františkem Bobo Aničkou a Andy Warholem?	2	Tykyn Tykyn
2	Libeň	ulice Na Hrázi	V polovině této ulice najdete nakreslený obrázek 1x1m, který nápadně připomíná logo tábora Technická přestávka 2010. Čemu dělá obrázek reklamu?	1	
3	Libeň	libeňské činžáky	Spočítejte, kolik červených koulí je na soše na sloupu ve vnitrobloku obytných domů. (Tolerance +-1)	2	<u>18 (17-19)</u>
4	Libeň	zrušený železniční most vedle viniční usedlosti Kolčavka	Stojíte-li v místech, kde by nad vámi stál před 100 lety most do zrušených zastávek Libeňské nádraží a Praha-Těšnov, uvidíte na severním pilíři mostu velké růžové sgrafiti začínající: Why are we so ...? Doplňte 1 slovo	2	BLIND
5	Libeň	lezecká stěna (boulder) na dětském hřišti	Cedulka na boulderu ukazuje přesný den výroby výrobku. Kdy to bylo?	1	10.7.2011
6	Libeň	Libeňský plynojem	Symbol Libně. Vchod branou z ulice Ke Kouli na severovýchod od plynojemu. Jděte pod kouli plynojemu a změřte výšku nejnižšího bodu koule od země. Tolerance +- 10 cm.	4	<u>130-150 (140)</u>
7	Libeň	sportoviště u Libeňského plynojemu	brána vstupu na sportoviště s výhledem na plynojem: Na bráně je cedule POZOR! OBJEKT HLÍDÁN PSEM. Jaká cedule visí asi o 5 m dále na jednopatrové budově č.p. 274?	1	Zákaz vstupu psům
8	Libeň	Parčík u ulice Františka Kadlece	altánek - změřte osovou vzdálenost dvou sloupů (tolerance +-10cm)	2	<u>177,5 cm (167-187)</u>
9	Žižkov	dětské hřiště Krejčárek	Co je uprostřed dětského kolotoče? (barva + co)	1	červená pastelka
10	Žižkov	lesopark Krejčárek	Hlavní cedule areálu DiscGolfPark Krejčárek s plánkem jamek a vysvětlivkami, jak hrát. Opišťe větu z obrázku č. 3 (před smajlíkem).	1	Před začátkem hry popořejte svým spoluhráčům příjemnou hru.
11	Žižkov	zahrádkářská kolonie Balkán	Oplocení zahrádek na jih od cesty má očíslované betonové sloupky. Jaký stroj je naproti přes cestu od betonového sloupku č. 250? Pojmenujte nebo nakreslete.	2	radar

12	Žižkov	Balkán	Na křižovatce směrem na fotbalové hřiště na Balkáně je obytná buňka s přístavkem se "zelenou střechou" a spoustou zajímavé výzdoby. Jaké zvíře je v severozápadním rohu budovy?	2	žirafa
13	Žižkov	rezidenční park Na Vackově (ulice Olgy Havlové)	vnitřní náměstí, dům č.p. 16. Kdo bydlí v bytě č. 103? (viz zvonky venku)	1	Chokshi
14	Žižkov	Židovské pece	dětské hřiště, zelený sloupek z krychliček s návštěvnickým řádem hřiště (hned u branky hřiště). Jaký ideogram je pod "Zákaz vstupu se psy" napravo od "Zákaz rozdělávání ohně"?	2	Zákaz míčových her
15	Střížkov	budova metra	Výtah obdélníkového tvaru ve směru na Park přátelství - jaké má evidenční číslo?	1	415
16	Střížkov	psí salon Jablonecká 365	Jaké nápisy jsou na psích oblečcích z výlohy psího salonu?	1	I love jogging Race dog
17	Prosek	Park přátelství	Amfiteátr (JV část parku) - jaké šestimístné číslo má lampa, která je uprostřed pod amfiteátrům ?	1	903078
18	Prosek	Automat na artéskou vodu (u kontejnerů)	Jaký objem sycené vody se zde dá načepovat za 10 Kč?	1	3 litry
19	Prosek	kostel sv. Václava	Zed' jdoucí kolem kostela naproti naučné ceduli - jaký letopočet je vyryt pod reliéfem lebky se skříženými hnáty?	1	1777, popř. 1717
20	Prosek	Prosecké skály	Najděte vstup do labyrintu podzemních chodeb, co je pod skalami (kovová dvířka pod skálou začernalou od sazí - nejnáchodnější část skály, na dohled od naučné cedule). Změřte OBVOD čtvercového okénka ve dvířkách.	2	<u>+80 cm</u>
21	Prosek	Fitness hřiště	Obkreslete nákras cvičícího stroje, kde se točíte ve stoje na kulaté podložce kolem své osy (viz jeho kovová cedulka).	1	
22	Prosek	Vyhlička Emy Destinové	lavička u silnice s výhledem do údolí - na noze lavičky je napsané datum "XX/X/XX Mirek :-)"	2	28.6.2014
23	Prosek	dopravní hřiště na Proseku	Kolik stojí litr Naturalu na benzince na dopravním hřišti?	2	36.50
24	Prosek	Vetřelci a volavky - zrušená školka na sídlišti	V zahradě bývalé školky jsou sochy tzv. Vetřelců a volavek. Jedna vypadá jako obří kosmonautka (kyslíkové bomby na zádech). Co má napsáno na levém rukávu?	2	pískot
25	Prosek	Park Václavka	dětské hřiště - Malé kovové kulaté destičky jednotlivých průlezků ukazují jméno firmy, která průlezků dodávala a jejich logo. Co je na obrázku loga za zvířátko? (Nepoznáte-li, obkreslete.)	1	hlemýžď/šnek
26	Vysočany	Nádraží Vysočany	Strašidelný tunel pro pěší pod kolejištěm - v části tunelu je kamenná dlažba. Kolik řad za sebou má? (tolerance +-3)	1	<u>100-107</u>
27	Vysočany	Park Podviní	Dětské hřiště v podobě skalního hradu - najděte tunel, co má na výšku téměř 2m - jaký čtyřpísmenný modrý nápis má sgrafitti na jeho stěně? (Je to v cizí řeči jistě zvíře.) Nápis je blízko otevřené chodby hradu.	2	WOLF



28	Vysočany	Trafogalerie	elektrosloupek před vchodem (z ulice Českomoravské) Doplněte sgrafitti nápis: "We are looking for...!"	1	small black dog
29	Vysočany	O2 aréna	Konec drátěného plotu v severním cípu areálu O2 arény při ulici Ocelářská (blízko vlajek). Na konci plotu je malá QR samolepka s nápisem "You found me. Scan for points." Opište webovou adresu.	1	<a href="http://www.munzee.com">www.munzee.com</a>
30	Vysočany	Ocelářská 344/10	Cedule vlevo od vstupu do bytového domu - Jakou cenu tento dům vyhrál?	1	Best of Realty 2008 (1. místo rezidenční objekty)
31	Vysočany	most pro cyklisty	Kovová "elektroskříňka" na pilíři lampy. Jaký světadíl je na samolepce na skříňce?	1	Afrika
32	Vysočany	teplovod u zahrádkářské kolonie	Křížení dvou teplovodů, lávka nad průběžným potrubím, co vede podél trati (přístup po žebříku vedle sgrafitti "hovnoman"). Nahoře je kulatý zarezlý předmět (pravděpodobně ventil) s vyraženým sériovým číslem XXXX-XX. Nahradte čísla.	2	2326-04
33	Vysočany	sad	Opište číslo stromu na spojnici mezi stromy č. 77 a 35	4	50
34	Vysočany	park Ke Klíčovu	Sloup vysokého napětí v parku (zarezlý, příhradový, žutá cedulka "39") - Opište text z cedulky	1	Výstraha - životu nebezpečno dotýkat se drátů i na zem spadlých!
35	Vysočany	schodiště naproti chladicí věži	Lampa č. 904145 ve spodní části schodiště má ze své druhé strany cedulku hraněného stožáru - jaké je její výrobní číslo podle firmy Enest?	1	27167
36	Vysočany	Květinové hřiště Na Krocínce	Jak se jmenuje firma, která vyrobila průlezky? (viz kovové destičky na každé průlezce)	1	Strašné dítě
37	Vysočany	komín na Harfě	Přístup od jihu po louce mezi železnicí a blokem budov s komínem. Ke komínu přiléhá z jihu budova, na jejíž východní fasádě je jistý kulatý obrázek. Co znázorňuje?	2	duhu
38	Vysočany	les u Flajšnerky	nový mostek přes potůček - na stromu u mostku je nasprejovaná lebka a mužské jméno. Jaké?	1	Matěj
39	Vysočany	rugbyové hřiště u haly ČKD č. 19	Asi 10 m nalevo od infocedule Rugbyové hřiště zjistěte, co podpořilo invazi vojsk Varšavského paktu do ČSR v r. 1968	1	Dopis 99 pragováků
40	Vysočany	bývalá ČKD hala	Podíváte-li se prostředním oknem východní fasády dovnitř haly (pod oknem jsou pneumatiky), je na prvním sloupu vpravo od vás černý sgrafitti nápis. Jak zní? (Je to druh zvířete.)	2	gorila
41	Vysočany	Nad Rokytkou ul. Nepelova	Zajímá vás 1. etapa z celkových 8i rezidenčního komplexu Nad Rokytkou (naproti přes ulici se staví nejnovější, 4. etapa). V ulici Nepelova uprostřed je vidět hodiny a la TP symbol - 4 barvy se 4 vykrojenými tvary. Pojmenujte/obkreslete je, napište barvu.	1	čtyřlístek (zelená) kruh (žlutá) "slza"/rugby míč (červená) 6 teček (modrá)
42	Vysočany	Fitness stezka Rokytká - tunel pod mostem	Na stěnách jsou nápisy pro motivaci sportovců. Opište alespoň 3.	1	Trénuj; Makej; Buď fit; Hýbej se s námi; Devítka v pohybu;



43	Vysočany	ČKD - chráněný komín vedle chráněné haly E	Opište 1. řádek z reklamy na komínu.	1	umělecké ateliéry
44	Malešice	Botanická zahrada SOŠ v Praze 9	Vnější zeď zahrady (v místě výhledu do zahrady na jezero a zámeček) s cedulí o spolufinancování projektu obnovy historicky cenného území a likvidace ekologických zátěží EU. <del>Kdo byl hlavní stavbyvedoucí?</del>	3	Ing. Martin Škopek
45	Malešice	náves	Na návsi u hlavního silničního tahu obcí stojí 3 dřevěné oblouky. K jakým stavebním slohům patří? (Odpověď najdete na zadní straně oblouků.)	1	románský, renesanční, gotický
46	Malešice	Milíčova modlitebna	Naučná cedule č.7 Dole pod cedulí je na dřevěné desce otázka s 3mi možnostmi. Která odpověď je správná? (viz zadní strana cedule)	1	střelná zbraň
47	Malešice	Malešický les	Naučná cedule, část "Víte, že..." Co bylo na místě tohoto lesa před druhou světovou válkou?	2	jen pár akátů (pět stromků)
48	Malešice	Malešický park - hudební klapky	Hudební klapky v zemi (píšťaly se vzhledem železničních pražců 13 m severovýchodně od větrníku). Jaký hudební interval vydávají klapky v pozici na obrázku? 	2	tercie
49	Malešice	Malešická zeď	Změřte POLOMĚR největšího kruhu ve zdi. (tolerance +- 5 cm)	1	<u>90-105 cm</u>
50	Malešice	trafostanice	Západní stěna. Co podává na obrázku na stěně jeden robot druhému?	2	srdce
51	Malešice	velodrom Na Třebešíně	Co se nachází na závodisti mezi kovovým točitým schodištěm a bílou lávkou, co je nad velodromem?	4	schody pro vítěze
52	Hrdlořezy	bunkr Třešňovka	V sadu na vrcholu kopce s výhledem na Pražské služby se nachází malý bunkr z 2. světové války. Změřte šířku vchodu bunkru.	3	<u>87-97</u>
53	Hrdlořezy	viadukty nad Rokytkou	Strom nad naučnými cedulemi o Bitvě u Štěrbohol. Strom má ceduli: Zákaz skládky pod pokutou ? Kč.	1	50 000

54	Hrdlořezy	meandry Rokytky	Zatím jediná dřevěná lávka přes Rokytku - z kolika dřevěných hranolů je tvořena? (tolerance +-2)	2	<u>28</u> (26-30)
55	Hrdlořezy	Hrdlořežská 40/13 (červená/modrá)	Co význačného se stalo na této adrese? (cedule na fasádě domu)	2	nic (pamětihodného)
56	Kyje	Herdovská 7	Co dělá dřevěný chlapec na verandě?	1	opírá se o zábradlí
57	Kyje	Podedvorská 291	Zelená značka na ceduli značí dočasnou stavbu. Jak vypadá dočasná stavba pod touto adresou? (je v zahradě, není to ta garáž u cesty)	1	hausbót
58	Kyje	dopravní hřiště	Najděte alespoň jeden dopravní nonsense. (= situace s chybným značením)	2	<u>slepá ulice není slepá/ zákaz odbočení z obou směrů do místa, kde je přerušovaná čára/ přednost před protijedoucím při výjezdu z kruháče</u>
59	Kyje	suchý poldr Čihadla	Změřte aktuální výšku hladiny Rokytky (výškoměr je na východní straně betonového objektu, číslo je v m.n.m.)	2	<u>kolem 215,6 m.n.m.</u>
60	Kyje	pomník 2.sv.v. u kostela (s motivem zabíjení německé orlice)	Opište jméno prvního Rudoarmějce, které je napsáno na pomníku obětí 2.sv.v.	1	Bojčenko
61	Kyje	Artefakt / rozhledna Martina Rajniše	Cedulka Artefakt s nákresem stavby: jaké příjmení měl student Ondřej z FA VUT, který pomáhal stavět Artefakt?	3	Mráz
62	Kyje	zahrádka u železnice	Jakou barvu má maringotka v zahradce u železničního mostu?	1	zelenou
63	Kyje	dětské hřiště	Na lezecké stěně ve tvaru Pravčické brány má 1 chyt tvar zvířete-obratlovce. Určete barvu+zvíře.	2	modrá sova/ zelená kočka
64	Kyje	Rajský vrch	Dřevěný kříž na vrcholu kopce: Jaká 3 písmena jsou do kříže vyryta mezi dvěma srdci? (Resp. 1 písmeno se 3x opakuje)	1	TTT
65	Hloubětín	PP Cihelna v Bažantnici	Vyhlídkový bod - na nejvyšše položené holé hliněné terase je do země zabudovaná vybledlá červená krabička 10x10 cm, jaký dvouslovný nápis je na ní vyrytý? (Stanoviště je částečně poškozeno, opište, co přečtete, pokud si neumíte zbytek nápisu domyslet.)	3	HRANIČNÍ ZNAK
66	Hloubětín	figurína v bývalém lomu	Asi 30 m jižně od cyklostezky, na odbočce do bývalého, dnes již zarostlého lomu, leží za posledními kládami bezhlavá figurína lidského rozměru s oděvem. Popište co nejpřesněji, co má na horní části těla.	2	<u>tmavě modrá bunda</u> <u>levý rukáv - stříbrná páska</u>
67	Hloubětín	Vizířská - nový park	Kulatá zeď objektu MŠ s obrázky z exotických oblastí - jaké zvíře je nakresleno mezi lamou a velbloudem?	1	klokan
68	Hloubětín	Lehovec	Od jihovýchodu uvidíte z lesa na dvůr prodejny jisté automobilové značky. Jaké?	2	Land rover

69	Hloubětín	zahrádkářská kolonie	Křižovatka silnice a pěšiny jdoucí na západ: Kolik dřevěných kůlů stojí na křižovatce podél silnice jižně od zeleného kovového sloupku? (tolerance +-1)	1	<u>13</u> <u>(12-14)</u>
70	Hloubětín	Hloubětínský zámeček	Při pohledu od silnice k zámečku, co je nalevo od vstupní brány na začátku budovy D?	2	babybox
71	Hloubětín	Kejřův park podporuje umění	Sochy za plotem u bytovek, u cyklostezky. Jak se liší socha Zdeňka Hůly na fotce a v realu? (Každá socha má jiného autora, najdete ho v popiskách na ceduli sochy.)	2	<u>sklo místo kovu</u>
72	Hloubětín	Na staré hospodě	Co je nejčastější dekorací na stěnách uvnitř hospody?	1	<u>trofeje (vycpaná zvířata, ryby)</u>
73	Hutě	Bílý kůň - labyrint podzemních chodeb	Najděte vstup do podzemí a změřte rozměry otevíravého víka X*Y. Víko je červené, kovové, s dvěma kruhovými otvory. (Otvor najdete 5 m od silnice, naproti vjezdu do garáže 3. domu v ulici od křižovatky Za černým mostem-Nad Hutěmi (cihelny obklad).) Tolerance +- 5 cm.	3	<u>(140*105 cm)</u> <u>135-145 * 95-110</u>
74	Hutě	křižovatka Vírská-Jamská	Pojmenujte bizarní dopravní upřesnění značky Dej přednost v jízdě na křižovatce.	1	červený medvídek
75	Hutě	začátek cyklostezky s alejí	Značka konec pěší zóny - žlutá nálepka rodinného klubu. Nabízí "čertovský (doplňte 1 slovo)"	2	kombomix
76	Hutě	minigolf	Nakreslete/popíšte, jak vypadá dráha mezi drahou s dvěma terénními vlnami a drahou s cílem na konci 45° šikmého mostku.	1	<u>45° vzhůru- pád kolmo - 45° vzhůru - lávka - pád do kytky</u>
77	Hutě	Pelušková 1408	Do fasády domu byl nalevo od dveří zabudován neobvyklý předmět. Jaký?	1	džbán
78	Černý Most	náměstíčko s "okrasnými skružemi"	Blízko pingpongového stolu je cedule s návštěvním řádem parku, na ní je v zeleném rámečku nálepka jednoho fotbalového klubu. Jak zní její motto?	1	My jsme kluci z Bohemky, přijeli jsme na holky
79	Černý Most	hrací kostky - socha	Jste v části, kde se ulice jmenují po českých letcích, bojujících v 2.sv.v. pod vlajkou VB. Na křižovatce Kučerova-Sobkova, pod sochou deštníku, jsou rozházené betonové kostky. Zpočítejte součet všech hozených čísel (teček).	2	27
80	Černý Most	Plechárna	Světle zelená cedule vedle brány láká k návštěvě komunitní zahrady. Obrázek na ceduli ukazuje 3 hnědé obloučky a 2 ??? (jaký další prvek)	1	mrkev
81	Černý Most	golfové hřiště Černý Most	Hole 14 - cedule Jak dlouho trvá hra od Hole 1 po holi 14? alias "Time from Tee 1" (tečkovaná cesta v mapě jde na severu přes mělký brod, pokračuje asfaltkou. Nechcete-li projít skrz celé hřiště až k bráně na jihu, vraťte se stejnou cestou, odkud jste přišli, žádné zkratky!)	4	3h21min
82	Černý Most	golfové hřiště Černý Most	lávka přes silnici jaký objekt s půdorysem čtverce se nachází nahoře vedle lávky přes silnici?	1	hodiny

83	Hostavice	lávka přes Svěpravický potok	Změřte délku prostředního prkna lávky (11. prkno z obou stran) Tolerance +-5 cm	2	<u>135-145 (140) cm</u>
84	Hostavice	Froncova 11	Auta které zahraniční značky parkují před tímto domem?	1	Mercedes
85	Hostavice	u zámku a zvoničky	Nalevo od naučné cedule je bílo-modrý orientační sloupek pro vodovodní řád. Opište číslo ze spodního řádku červené cedulky.	1	46
86	Hostavice	dětské hřiště	Jaké zvíře imituje herní prvek na hřišti, který má 3 pružiny?	1	krokodýla
88	Dolní Počernice	amfiteátr u bývalého pivovaru	Kolik žároveček osvětluje plochu jeviště? (tolerance plus minus 3)	1	<u>45-51 (48)</u>
89	Dolní Počernice	vesnický dvůr	Na dvoře počernické knihovny + i-centra + pošty + muzea je objekt z nákresu. K čemu slouží? 	1	studna
90	Dolní Počernice	Zámecký park - exteriér zámku	Na zámku sídlí dětský domov a mateřská školka. Školka má na zahrádce dětské hřiště. Jaké zvíře se nachází na vršku 2m kůlu?	1	sova
91	Dolní Počernice, Jahodnice	Hostavický potok - revitalizace	Na dřevěném kůlu je vyřezané zvíře stojící na "žaludu" a mající na hlavě "diamant". O jaké zvíře jde? Popište i jeho postoj.	1	<u>kolibřík (pták) s roztaženými křídly</u>
92	Dolní Počernice, Jahodnice	dětské hřiště u Hostavického potoka	Jaký přírodní motiv zobrazují motivy na dětském hřišti?	1	larvální vývoj motýla
93	Dolní Počernice	rybník V pískovně geologická zahrada	Odkud pochází kámen hlíznatého vápence umístěný v geologické zahradě?	2	Radotín - lom Špička
94	Dolní Počernice	rybník V pískovně	Naučná cedule - naděte na mapě naučné cedule alespoň 1 odlišnost oproti mapě JTP	2	rybník Čeněk - Martiňák/ jiná ramena Rokytky
95	Dolní Počernice	Kočí hrádek	Obkreslete tvar nosu kočky	2	

### NAUČNÁ STÁNÍ - Napište jméno naučného stání - 5 bodů za logo



17. Jez a náhon ke mlýnu



10. Čihadla



10. Pražský zlom



8. U trati

### STANOVIŠTĚ S ÚKOLY - Vyplní org

A	hudba	Hloubětín	molo, Hořejší rybník	4	
B	sport	Vysočany	fitness hřiště u Rokytky	4	
C	tanec	Prosek	Park přátelství - u sochy Wolkera	4	

### FOTOÚKOLY - min. 1 člen týmu musí být na fotce - PŘEDVYPLŇTE, zda jste splnili, než dojdete do cíle!!!!

D	Rajská zahrada	živý komiks u trafostanice	Napodobte figury malované na trafostanici a vyfoťte se vedle nich (aby byl originál zachycen na fotce). 3 body za 2 kompozice.	3	
E	Jahodnice	halda	Vyfoťte se na vrcholu haldy, aby šlo poznat, kde stojíte.	3	
F	Rokytky	nutrie	Vyfoťte se s živou nutrií (bobr s tenkým ocasem). Orgové viděli nutrie na vyznačených místech v mapě, ale fotit se můžete kdekoliv.	3	
G	Prosek	bobová dráha u vinice Máchalky	Vyfoťte se s bobovou dráhou.	3	